

ಪೂರ್ವ ಮಾಧ್ಯಮಿಕ ಶಿಷ್ಯವೃತ್ತಿ ಪರೀಕ್ಷೆ (8 ನೇ ಇಯತ್ತ್), ಫೆಬ್ರವರಿ 2024

ಆಸನ ಕ್ರಮಾಂಕ-

--	--	--	--	--	--	--	--	--	--

ಸಂಚ-



0 8 2 2

ಪೇಪರ್ ಕ್ರ - II

ಸಮಯ : 02:00 ರಿಂದ 03:30

ಮಾಧ್ಯಮ - ಕನ್ನಡ

ಒಟ್ಟು ಗುಣಗಳು : 150

ತೃತೀಯ ಭಾಷೆ ಮತ್ತು ಬುದ್ಧಿಮತ್ತೆ ಚಾಚಣಿ



ಪುಟಗಳು : 32

ಪ್ರಶ್ನೆ ಪತ್ರಿಕೆ ಬಿಡಿಸುವುದಕ್ಕಿಂತ ಮುಂಚೆ ಕೆಳಗಿನ ಸೂಚನೆಗಳು ಎಚ್ಚರಿಕೆಯಿಂದ ಓದಿರಿ.

- (1) ಈ ಪ್ರಶ್ನೆ ಪತ್ರಿಕೆಯಲ್ಲಿ ಎರಡು ವಿಭಾಗಗಳಿವೆ. ವಿಭಾಗ I ರಲ್ಲಿ ತೃತೀಯ ಭಾಷೆಯ 1 ರಿಂದ 25 ಪ್ರಶ್ನೆಗಳಿವೆ ಮತ್ತು ವಿಭಾಗ II ರಲ್ಲಿ ಬುದ್ಧಿಮತ್ತೆ ಚಾಚಣಿಯ 26 ರಿಂದ 75 ಪ್ರಶ್ನೆಗಳಿವೆ. ಹೀಗೆ 75 ಪ್ರಶ್ನೆಗಳು ಇದ್ದು ಎಲ್ಲ ಪ್ರಶ್ನೆಗಳು ಬಿಡಿಸುವುದು ಅವಶ್ಯಕವಾಗಿದೆ.
- (2) ಪ್ರತಿಯೊಂದು ಪ್ರಶ್ನೆಗೆ 2 ಗುಣಗಳಿವೆ.
- (3) ಪ್ರಶ್ನೆ ಪತ್ರಿಕೆ ಬಿಡಿಸಲು ಒಟ್ಟು 90 ನಿಮಿಷಗಳ ಕಾಲಾವಧಿ ಕೊಡಲಾಗಿದೆ.
- (4) ಉತ್ತರಗಳನ್ನು ನೋಂದಾಯಿಸುವ ಸಲುವಾಗಿ ಸ್ವತಂತ್ರ ಉತ್ತರ ಪತ್ರಿಕೆ ಕೊಡಲಾಗಿದೆ. ಪ್ರತಿಯೊಂದು ಪ್ರಶ್ನೆ ಕ್ರಮಾಂಕದ ಮುಂದೆ ನಾಲ್ಕು ಪರ್ಯಾಯವಿರುವ ವರ್ತುಗಳನ್ನು ಕೊಡಲಾಗಿದೆ. ಅದರಲ್ಲಿ ಯೋಗ್ಯ ಉತ್ತರವಿರುವ ಪರ್ಯಾಯ ಕ್ರಮಾಂಕವಿರುವ ವರ್ತುಗಳನ್ನು ಉದಾಹರಣೆಯಲ್ಲಿ ತೋರಿಸಿದಂತೆ ನೋಂದಾಯಿಸಿರಿ. ಉದಾ - ಪ್ರಶ್ನೆ ಕ್ರಮಾಂಕ 6 ರ ಉತ್ತರ 2 ಆದರೆ ಕೆಳಗೆ ತೋರಿಸಿದಂತೆ ವೃತ್ತವನ್ನು ಪೂರ್ಣವಾಗಿ ತುಂಬಿರಿ.
ಉದಾ. ಪ್ರಶ್ನೆ ಕ್ರ. 6 - (1) (2) (3) (4)
- (5) ಕೆಳಗಿನಂತೆ ನೋಂದಾಯಿಸಿದ ಉತ್ತರಗಳ ಬಗ್ಗೆ ವಿಚಾರ ಮಾಡಲಾಗುವುದಿಲ್ಲ.
(1) (2) (3) (4)
- (6) ಗರಿಷ್ಠ 20% ಪ್ರಶ್ನೆಗಳು ಎರಡು ಸರಿಯಾದ ಪರ್ಯಾಯಗಳನ್ನು ಹೊಂದಿವೆ. ಆ ಎರಡು ಪರ್ಯಾಯಗಳು ನೋಂದಾಯಿಸುವುದು ಅವಶ್ಯಕವಾಗಿದೆ, ಅದರ ಸಲುವಾಗಿ ಆ ಪ್ರಶ್ನೆಯ ಜೊತೆಗೆ ಯೋಗ್ಯವಾದ ಎರಡು ಪರ್ಯಾಯಗಳು ಆಯ್ಕೆ ಮಾಡಿರಿ ಎಂಬ ಸೂಚನೆ ಕೊಡಲಾಗಿದೆ.
- (7) ಯೋಗ್ಯವಾದ ಎರಡು ಪರ್ಯಾಯಗಳು ಆಯ್ಕೆ ಮಾಡಿರಿ ಹೀಗೆ ಸೂಚನೆ ಕೊಟ್ಟ ಪ್ರಶ್ನೆಯ ಹೊರತಾಗಿ ಉಳಿದ ಪ್ರಶ್ನೆಗಳಿಗೆ ಒಂದಕ್ಕಿಂತ ಹೆಚ್ಚು ವರ್ತುಗಳಲ್ಲಿ ನೋಂದಾಯಿಸಿದ ಉತ್ತರಗಳು, ತಿದ್ದುಪಡಿ ಮಾಡಿ ನೋಂದಾಯಿಸಿದ ಉತ್ತರಗಳು ಗಮನಕ್ಕೆ ತೆಗೆದುಕೊಳ್ಳಲಾಗುವುದಿಲ್ಲ.
- (8) ಒಮ್ಮೆ ನೋಂದಾಯಿಸಿದ ಉತ್ತರ ಬದಲಾಯಿಸಲು ಬರುವುದಿಲ್ಲ.
- (9) ಪರ್ಯಾಯದ ಉತ್ತರ ಕ್ರಮಾಂಕಗಳನ್ನು ಕಪ್ಪು ಅಥವಾ ನೀಲಿ ಬಾಲ್ ಪೆನ್‌ನಿಂದ ನೋಂದಾಯಿಸಬೇಕು. ಪೆನ್‌ನಿಂದ ನೋಂದಾಯಿಸಿದ ಉತ್ತರಗಳ ಬಗ್ಗೆ ವಿಚಾರ ಮಾಡಲಾಗುವುದಿಲ್ಲ.
- (10) ಪ್ರಶ್ನೆ ಪತ್ರಿಕೆಯ ಪ್ರತಿಯೊಂದು ಪುಟದ ಕೆಳಗೆ ಮತ್ತು ಕೊನೆಯ ಪುಟದ ಮೇಲೆ ಕಚ್ಚಾಕೆಲಸಕ್ಕಾಗಿ ಖಾಲಿ ಸ್ಥಳವನ್ನು ಬಿಡಲಾಗಿದೆ ಅಲ್ಲಿಯೇ ಕಚ್ಚಾಕಾರ್ಯ ಮಾಡಬೇಕು.
- (11) ಪರೀಕ್ಷೆಗೆ ಮರ್ಯಾದಿತ ವೇಳೆ ಇರುವುದರಿಂದ ಒಂದು ಪ್ರಶ್ನೆಯ ಉತ್ತರ ನಿಮಗೆ ಬರದಿದ್ದರೆ, ಮುಂದಿನ ಪ್ರಶ್ನೆ ಬಿಡಿಸಿರಿ. ಕೊನೆಗೆ ವೇಳೆ ಇದ್ದರೆ ಉಳಿದಂತೆ ಪ್ರಶ್ನೆಗಳ ಬಗ್ಗೆ ಪುನಃ ಪ್ರಯತ್ನ ಮಾಡಿರಿ.
- (12) ಯಾವುದೇ ಪ್ರಶ್ನೆಯಲ್ಲಿ ತಪ್ಪು / ದೋಷಗಳಿದ್ದರೆ ಅದರ ಬಗ್ಗೆ ಪರ್ಯಾಯವೇಕೆ ಅಥವಾ ಪರೀಕ್ಷೆ ಕೇಂದ್ರ ಸಂಚಾಲಕರ ಕಡೆ ವಿಚಾರಣೆ ಮಾಡಬಾರದು.
- (13) ಪ್ರಶ್ನೆಯಲ್ಲಿಯ ಯಾವುದೇ ದೋಷ/ತಪ್ಪು/ ಆಕ್ಷೇಪಣೆ ಬಗ್ಗೆ ನಿಮ್ಮ ಲಿಖಿತ ನಿವೇದನೆಯನ್ನು ಶಾಲೆಯವರು ಅಥವಾ ಪಾಲಕರು ಗಟ್ಟಿಪಟ್ಟಾಧಿಕಾರಿ ಅಥವಾ ಶಿಕ್ಷಣಾಧಿಕಾರಿಯವರಿಗೆ ಲಿಖಿತ ಸ್ವರೂಪದಲ್ಲಿ ಕಳುಹಿಸದೇ ಸಂಬಂಧಿತ ಶಾಲೆಯ ಲಾಗಿನ್‌ದಿಂದ ಆನ್‌ಲೈನ್ ನೋಂದಾಯಿಸಬೇಕು.
- (14) MSCE ವೆಬ್‌ಸೈಟ್‌ನಲ್ಲಿ (ಮಧ್ಯಂತರ) ಕೊನೆಯ ಉತ್ತರ ಸೂಚಿ ಪ್ರಕಟಿಸಿದ 10 ದಿನಗಳಲ್ಲಿ ದೋಷ/ತಪ್ಪು/ಆಕ್ಷೇಪಣೆ/ಸಮಸ್ಯೆಗಳನ್ನು ಆನ್‌ಲೈನ್‌ನಲ್ಲಿ ನೋಂದಾಯಿಸಬೇಕು.
- (15) ಮುದ್ರಣ ದೋಷ ಅಥವಾ ಅನ್ಯ ಕಾರಣಗಳಿಂದ ಪ್ರಶ್ನೆ ತಪ್ಪು ಎಂದು ಕಂಡು ಬಂದರೆ ತಜ್ಞ ಸಮಿತಿಯ ಅಭಿಪ್ರಾಯಕ್ಕೆ ಅನುಸಾರವಾಗಿ ಅದನ್ನು ರದ್ದು ಮಾಡಲಾಗುವುದು.
- (16) ಮೂಲ ಕನ್ನಡ ಮಾಧ್ಯಮದ ಜೊತೆಗೆ ಇಂಗ್ಲೀಷ್ ಭಾಷೆಯಲ್ಲಿ ಪ್ರಶ್ನೆ ಪತ್ರಿಕೆ ಕೊಡಲಾಗಿದೆ, ಮೂಲ ಕನ್ನಡ ಮಾಧ್ಯಮದಲ್ಲಿಯ ಸಂದಿಗ್ಧ ಪ್ರಶ್ನೆಯ ಬಗ್ಗೆ ಇಂಗ್ಲೀಷ್ ಪ್ರಶ್ನೆ ನೋಡಿರಿ.

Section - I

English

Q. 01 to Q. 03 Instruction -

Read the passage and answer the questions.

Sushruta was indeed a bright student of veterinary medicine. His teacher, Shalihotra, once decided to test him.

He asked Sushruta what all he would need to perform a surgery on a wonderful horse. Sushruta, very quickly listed down all the instruments and the medicines that would be needed.

“Three things are missing.” Shalihotra said.

Confused, Sushruta looked at him.

“I will give you a week to find them.” Shalihotra consoled.

Curious to find out what those three things were, Sushruta observed his teacher carefully for the next one week.

Before operating the horse, Shalihotra observed every part of the horse and then Sushruta found the first missing thing!

01. Choose the correct alternative.

Sushruta was a _____.

- | | |
|-----------------------|--------------------|
| (1) veterinary doctor | (2) bright student |
| (3) teacher | (4) farmer |

02. Choose the correct alternative.

What task Shalihotra gave to Sushruta _____.

- (1) To perform a surgery on a wonderful horse
- (2) To find out three things
- (3) To find out instruments
- (4) To find out different medicines

SPACE FOR ROUGH WORK

03. Choose the correct alternative.

How long a period did Shalihotra allow to find the missing things?

- (1) One day (2) Two weeks (3) A week (4) Month

04. Choose the two correct options for the underlined word from the given alternatives.

This year there is a great loss for India that Popular singer Lata Mangeshkar passed away.

- (1) Famous (2) Not known
(3) Strong (4) Very well-known

05. Choose the correct alternative of Active voice for the following sentence.

My father was given a jeep by the government.

- (1) The government give a jeep to my father.
(2) The government gave a jeep to my father.
(3) The government given a jeep to my father.
(4) The government will give a jeep to my father.

06. Choose the correct alternative from the following to complete puzzle.

N	e		d	l	e
		a			
		s			
		t		s	t

- (1) O (2) N (3) p (4) e

07. Choose correct alternative to frame a meaningful question.

People / did / where / him / meet

- (1) Where did people meet him? (2) Did people meet him where?
(3) Where did him people meet? (4) People meet him where did.

SPACE FOR ROUGH WORK

08. Choose the correct alternative for indirect speech.

“We are orphans”, they answered.

- (1) They answered they were orphans.
- (2) They answered that they were orphans.
- (3) They answered that they are orphans
- (4) They answered that they are not orphans.

09. Read the riddle and choose correct alternative.

What is the full of holes, but still holds water?

- (1) Glass
- (2) Plastic
- (3) Iron
- (4) Sponge

10. The verb form of addition is _____.

- (1) Add
- (2) Added
- (3) Additional
- (4) Addition

11. Choose the correct expression.

_____ She died of hunger.

- (1) Hey!
- (2) Bravo!
- (3) Oh!
- (4) Alas!

Read the following news and answer the questions by choosing correct option.

More Dinosaur Fossils found In Kutch

Ahmedabad, Feb 15, 2016 :

A team of Indian and German scientists working near Bhuj in the Kutch region of Gujarat had found a big fossil of a dinosaur in a hill in Lodai village. On Saturday, they found a few more fossils. The new fossils include skull, jaw and some teeth of dinosaur. Their work of excavation or digging very very carefully still goes on.

12. Name the village where a big fossil of a dianosaur found _____.

- (1) Kutch
- (2) Gujarat
- (3) India
- (4) Lodai

SPACE FOR ROUGH WORK

13. Find the number of nouns in the following sentence.
Avinash, Yash, Mona and Om yesterday came to Pune.
(1) 2 (2) 5 (3) 3 (4) 4
14. Choose the correct pair of homophones to get meaningful sentence.
He _____ me a mail and told there is a gift parcel of _____ bottles.
(1) sent, scent (2) sent, saint (3) send, sand (4) get, gate
15. Read the following and find out the number of imperative sentences in it.

Come here
What happened?
Tell me all
I will not punish you
Write all on this paper.

- (1) 2 (2) 4 (3) 3 (4) 1
16. Choose two Correct options.
Avoid too much use of mobile phones and _____.
(1) Save home (2) Save your time
(3) Save earth (4) Be safe from eye problems

Read given advertisement and choose correct option.

P.V. J's Urja School, Nanded
Wanted
Post - Science Teacher
Qualification - B.Sc. , B.Ed.
Apply before 15th June 2023
Secretary

17. The advertisement is given for the post of _____.
(1) Principal (2) Clerk (3) Teacher (4) Peon

SPACE FOR ROUGH WORK

18. Last date of application is _____.

(1) 15th April 2023

(2) 15th March 2023

(3) 15th June 2022

(4) 15th June 2023

19. Complete the sentence by using the correct form of verb to get Simple Future Tense.

You _____ good marks.

(1) will get

(2) got

(3) are getting

(4) is get

Q. 20 & Q. 21 Instructions -

Read the passage and choose the correct alternative.

The famous physics professor Stephen Hawking has warned that mankind is facing the most dangerous time in its history today. He said that the world today is facing huge challenges like climate change, overpopulation, epidemic diseases. "We have the technology to destroy the planet on which we live and have not yet developed the ability to escape it. Perhaps in a few hundred years from now, we will have built colonies amid the stars, but right now, we have only one planet and we need to work together to protect it."

20. We have the technology to destroy the ____, according to Hawking.

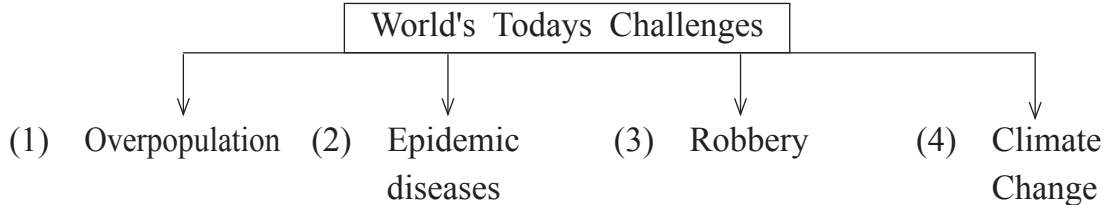
(1) Aircrafts

(2) Space

(3) Planet

(4) Tank

21. Choose incorrect alternative to complete the following diagram.



SPACE FOR ROUGH WORK

22. Choose the correct alternative.

It is 5 to 11 o'clock, the school bell will ring after twenty minutes that means at _____ o'clock.

- (1) quarter past Eleven (2) quarter to Eleven
(3) quarter past Twelve (4) 11 o'clock

23. Given below are words. Choose correct alternative which is of positive degree.

Shakuntal

good

Sanskrit

- (1) Shakuntal is better than any other drama in Sanskrit.
(2) Shakuntal is the best drama in Sanskrit.
(3) No other drama in Sanskrit is as good as Shakuntal.
(4) Shakuntal is the best than any other drama in Sanskrit.

24. Choose the correct alternative to explain the underlined phrase.

Akash was so active and enthusiastic, he always did his homework in a jiffy.

- (1) Very Soon (2) Hurriedly
(3) Neatly (4) Slowly

25. Choose the correct alternative for the underlined word.

When I met my grandmother after long time, we recollect my childhood moments.

- (1) Present Situation (2) Future Plans
(3) Every Activity (4) Remembering the past

SPACE FOR ROUGH WORK

SECTION - II

INTELLIGENCE TEST

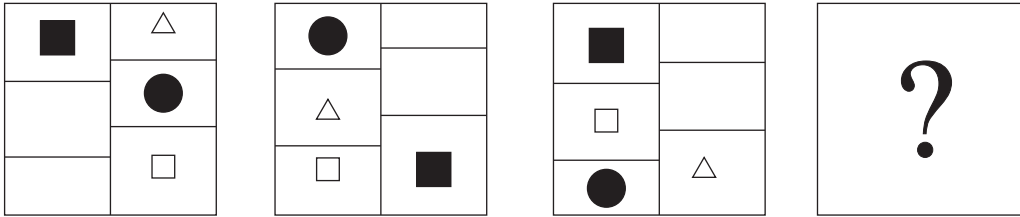
Q. 26 to Q. 30 Direction :

In the given series find the correct term to replace the question mark.

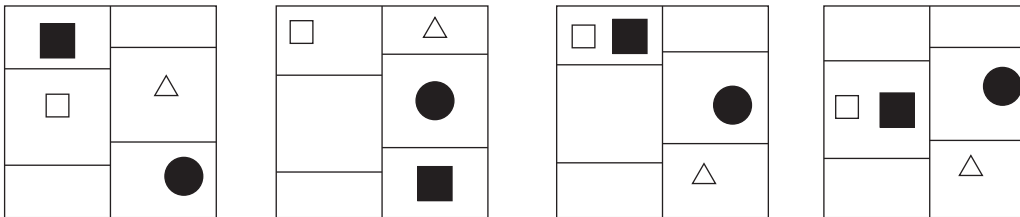
26. 43, 31, 28, 12, 10, ?

- (1) 10 (2) 9 (3) 8 (4) 7

27. Question Figures :



Answer Figures :



- (1) (2) (3) (4)

28. $\triangle \blacktriangle \leftrightarrow \square \bigcirc$, $\square \blacktriangle \bigcirc \leftrightarrow \triangle$, $\leftrightarrow \blacktriangle \triangle \bigcirc \square$, $\square ?$

- (1) $\bigcirc \square \triangle \leftrightarrow \blacktriangle$ (2) $\square \bigcirc \blacktriangle \triangle \leftrightarrow$ (3) $\square \bigcirc \blacktriangle \leftrightarrow \triangle$ (4) $\bigcirc \blacktriangle \square \triangle \leftrightarrow$

29. 1, 7, 34, 137, 410, 821, ?

- (1) 1641 (2) 820 (3) 1230 (4) 1440

30. XBW, RGQ, LLK, ?

- (1) FQD (2) ESF (3) FQE (4) GQE

SPACE FOR ROUGH WORK

ABCDE	FGHIJ	KLMNO	PQRST	UVWXY
-------	-------	-------	-------	-------

ವಿಭಾಗ - II

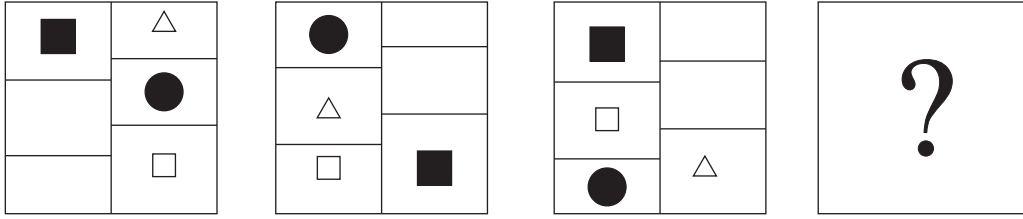
ಗಣಿತ

ಪ್ರಶ್ನೆ 26 ರಿಂದ 30 ರ ವರೆಗೆ ಸೂಚನೆ :

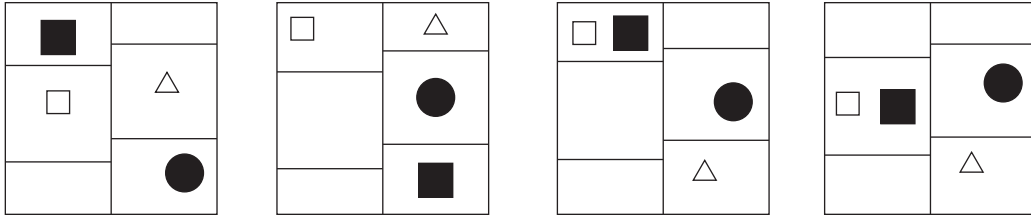
ಕೆಳಗಿನ ಮಾಲಿಕೆಯಲ್ಲಿಯ ಪ್ರಶ್ನೆಚಿಹ್ನೆಯ ಸ್ಥಳದಲ್ಲಿ ಬರುವ ಪದದ ಯೋಗ್ಯ ಪರ್ಯಾಯ ಆರಿಸಿರಿ.

26. 43, 31, 28, 12, 10, ?
 (1) 10 (2) 9 (3) 8 (4) 7

27. ಪ್ರಶ್ನೆ ಆಕೃತಿಗಳು :



ಉತ್ತರ ಆಕೃತಿಗಳು :



- (1) (2) (3) (4)

28. $\triangle \blacktriangle \leftrightarrow \square \circ$, $\square \blacktriangle \circ \leftrightarrow \triangle$, $\leftrightarrow \blacktriangle \triangle \circ \square$, ?

- (1) $\circ \square \triangle \leftrightarrow \blacktriangle$ (2) $\square \circ \blacktriangle \triangle \leftrightarrow$ (3) $\square \circ \blacktriangle \leftrightarrow \triangle$ (4) $\circ \blacktriangle \square \triangle \leftrightarrow$

29. 1, 7, 34, 137, 410, 821, ?

- (1) 1641 (2) 820 (3) 1230 (4) 1440

30. XBW, RGQ, LLK, ?

- (1) FQD (2) ESF (3) FQE (4) GQE

ಕೇವಲ ಕಚ್ಚಾ ಕೆಲಸಕ್ಕಾಗಿ

ABCDE	FGHIJ	KLMNO	PQRST	UVWXY
-------	-------	-------	-------	-------

31. From the given options pick the wrong term out.

125, 115, 103, 89, 74, 59, 40

- (1) 103 (2) 59 (3) 40 (4) 74

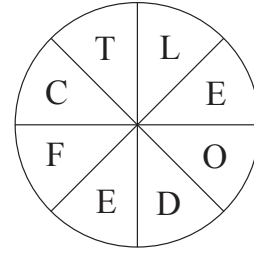
32.

1, 8, 5, 9, 4, 5, 8, 5, 9, 1, 5, 1, 5, 8, 9, 5, 4

In the given number series, how many times preceding 5 square numbers and succeeding 5 cube numbers have occurred?

- (1) 4 times (2) 2 times (3) 5 times (4) 3 times

33. Form a meaningful idiom from the letters given in the figure and find its meaning from the given options.



- (1) Very rarely
(2) Becoming nervous
(3) Feeling ill
(4) An easy task

34. If the given alphabet series is written by reversing the order of letters, eighth letter to the left of the middle letter will be at what place from left side?

- (1) 21st (2) 20th (3) 5th (4) 6th

35. In the word 'INCOMPREHENSIBILITIES', how many times the letter 'I' has occurred?

- (1) 5 (2) 6 (3) 4 (4) 7

36. From the given alphabet series, from each group only 1st, 3rd and 5th letters are written and a new series is formed, then in that series which pair of letters will occur at the same distance from the letter P.

- (1) JW (2) MW (3) FY (4) HW

SPACE FOR ROUGH WORK

ABCDE	FGHIJ	KLMNO	PQRST	UVWXY
-------	-------	-------	-------	-------

31. ಮಾಲಿಕೆಯಲ್ಲಿ ತಪ್ಪು ಪದ ಪರ್ಯಾಯದಿಂದ ಆರಿಸಿರಿ.

125, 115, 103, 89, 74, 59, 40

- (1) 103 (2) 59 (3) 40 (4) 74

32.

1, 8, 5, 9, 4, 5, 8, 5, 9, 1, 5, 1, 5, 8, 9, 5, 4

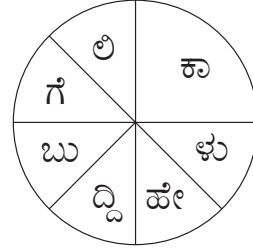
ಈ ಅಂಕಮಾಲಿಕೆಯಲ್ಲಿ 5ರ ಕ್ಕಿಂತ ಮೊದಲು ಕೂಡಲೆ ವರ್ಗ ಸಂಖ್ಯೆ ಮತ್ತು 5ರ ನಂತರ ಕೂಡಲೆ ಘನ ಸಂಖ್ಯೆ ಬಂದಿವೆ, ಹಾಗಾದರೆ ಅಂತಹವು ಎಷ್ಟು ವೇಳೆ ಬಂದಿವೆ?

- (1) 4 ವೇಳೆ (2) 2 ವೇಳೆ (3) 5 ವೇಳೆ (4) 3 ವೇಳೆ

33.

ಬದಿಯ ಅಕ್ಷರಗಳಿಂದ ತಯಾರಾಗುವ ಪಡೆನುಡಿಯ ಅರ್ಥ ಪರ್ಯಾಯಗಳಿಂದ ಆರಿಸಿರಿ.

- (1) ಸಿಟ್ಟಿಗೆ ಬರು
(2) ಓಡಿ ಹೋಗು
(3) ಓದುತ್ತ ಹೇಳು
(4) ಕಾಲಿಗೆ ನಮಸ್ಕರಿಸು



34.

ಕೊಟ್ಟ ಅಕ್ಷರ ಮಾಲೆಯನ್ನು ಕೊನೆಯ ಅಕ್ಷರದಿಂದ ಬರೆಯಲು ಆರಂಭಿಸಿ ತಯಾರಾದ ಅಕ್ಷರ ಮಾಲೆಯ ಮಧ್ಯದ ಅಕ್ಷರದ ಎಡಬದಿಯ ಎಂಟನೆಯ ಅಕ್ಷರವು ಎಡಬದಿಯಿಂದ ಎಷ್ಟನೆಯ ಕ್ರಮಾಂಕದ ಮೇಲೆ ಇರುವುದು?

- (1) 21 ನೆಯ (2) 20 ನೆಯ (3) 5 ನೆಯ (4) 6 ನೆಯ

35.

'ಶ್ರೇಯಾಳು ವ್ಯಾಸರು ರಾಮಾಯಣ ದರ್ಶನಂ ಬರೆದಿದ್ದು ಎಂದಳು, ಅದು ತಪ್ಪಲ್ಲವೇ?'

ಈ ವಾಕ್ಯದಲ್ಲಿಯ ಒತ್ತಾಕ್ಷರಗಳು ಎಷ್ಟು?

- (1) 6 (2) 4 (3) 5 (4) 7

36.

ಕೊಟ್ಟ ಅಕ್ಷರಮಾಲೆಯಲ್ಲಿಯ ಪ್ರತಿಯೊಂದು ಗುಂಪಿನ 1ನೇ, 3ನೇ, 5ನೇ ಅಕ್ಷರಗಳು ಅದೇ ಕ್ರಮದಲ್ಲಿ ಬರೆದು ತಯಾರಾದ ಹೋಸ ಅಕ್ಷರ ಮಾಲೆಯಲ್ಲಿಯ P ಈ ಅಕ್ಷರದಿಂದ ಸಮಾನ ಅಂತರದ ಮೇಲಿರುವ ಅಕ್ಷರಗಳ ಜೋಡಿ ಪರ್ಯಾಯದಿಂದ ಆರಿಸಿರಿ.

- (1) JW (2) MW (3) FY (4) HW

ಕೇವಲ ಕಚ್ಚಾ ಕೆಲಸಕ್ಕಾಗಿ

Q. 37 to Q. 39 Direction :

In the following rhythmic series which set will replace the question mark. Observe the pattern and choose the correct alternatives.

37. ? L Y ? L L L ? Z L ? L Y Z ? L L

- (1) L L Z Y L (2) L L Y Z L (3) L Z L Y L (4) L Z Y L L

38. 6 7 8 ? 8 5 8 ? 4 5 ? 3 4 ? 2 3 2 1

- (1) 7 5 4 3 (2) 3 4 5 7 (3) 7 4 5 3 (4) 4 5 7 3

39. ○△*□+*□?△○+△○?*○□?△+

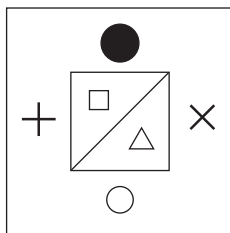
- (1) + □ * (2) □ + * (3) □ + ○ (4) * □ ○

Q. 40 to Q. 44 Direction :

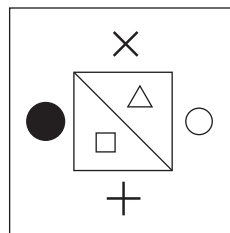
From the given options pick the odd term out.

40. (1) Agartala (2) Aizwal (3) Imphal (4) Sikkim

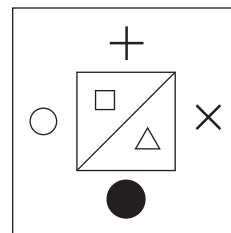
41.



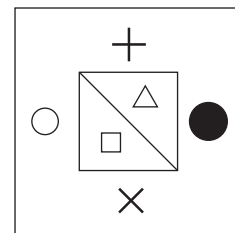
(1)



(2)



(3)



(4)

42. (1) 100 (2) 252 (3) 392 (4) 576

43. (1) $\frac{5}{15}$ (2) $\frac{6}{21}$ (3) $\frac{7}{28}$ (4) $\frac{8}{30}$

SPACE FOR ROUGH WORK

ABCDE	FGHIJ	KLMNO	PQRST	UVWXY
-------	-------	-------	-------	-------

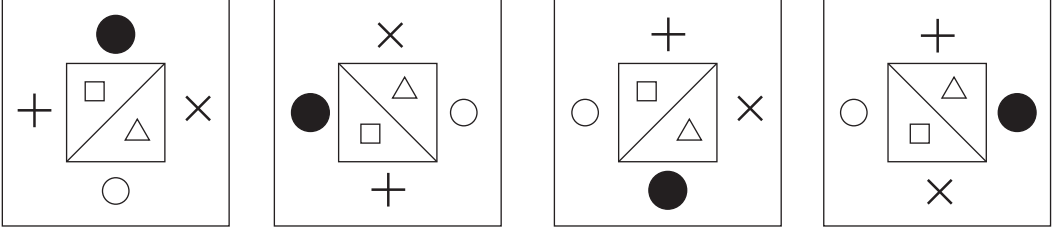
ಸೂಚನೆ 37 ರಿಂದ 39 ರ ವರೆಗೆ :

ಕೊಟ್ಟ ಲಯಬದ್ಧ ಮಂಡನೆಯ ಪದಗಳ ಕ್ರಮವನ್ನು ಲಕ್ಷದಲ್ಲಿ ತೆಗೆದುಕೊಂಡು ಪ್ರಶ್ನೆಚಿಹ್ನೆಯ ಸ್ಥಳದಲ್ಲಿ ಬರುವ ಯೋಗ್ಯ ಗುಂಪು ಪರ್ಯಾಯದಿಂದ ಆರಿಸಿರಿ.

37. ? ಕ ತ ? ಕ ಕ ಕ ? ಕ್ಷ ಕ ? ಕ ತ ಕ್ಷ ? ಕ ಕ
 (1) ಕ ಕ್ಷ ಕ ತ ಕ (2) ಕ ಕ ತ ಕ್ಷ ಕ (3) ಕ ತ ಕ್ಷ ಕ ಕ (4) ಕ ಕ್ಷ ತ ಕ ಕ ಕ
38. 6 7 8 ? 8 5 8 ? 4 5 ? 3 4 ? 2 3 2 1
 (1) 7 5 4 3 (2) 3 4 5 7 (3) 7 4 5 3 (4) 4 5 7 3
39. $\bigcirc \triangle * \square + * \square ? \triangle \bigcirc + \triangle \bigcirc ? * \bigcirc \square ? \triangle +$
 (1) $+ \square *$ (2) $\square + *$ (3) $\square + \bigcirc$ (4) $* \square \bigcirc$

ಸೂಚನೆ ಪ್ರಶ್ನೆ 40 ರಿಂದ 44 ರ ವರೆಗೆ :

ಗುಂಪಿಗೆ ಸೇರದ ಪದ ಪರ್ಯಾಯಗಳಿಂದ ಆರಿಸಿರಿ.

40. (1) ಆಗರ ತಲ (2) ಐಜಾಲ (3) ಇಂಫಾಲ (4) ಸಿಕ್ಕಿಮ್
41. 
- (1) (2) (3) (4)
42. (1) 100 (2) 252 (3) 392 (4) 576
43. (1) $\frac{5}{15}$ (2) $\frac{6}{21}$ (3) $\frac{7}{28}$ (4) $\frac{8}{30}$

ಕೇವಲ ಕಚ್ಚಾ ಕೆಲಸಕ್ಕಾಗಿ

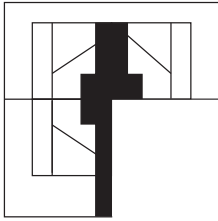
ABCDE	FGHIJ	KLMNO	PQRST	UVWXY
-------	-------	-------	-------	-------

44. (1) CWF (2) DVI (3) FTL (4) GSN

45. Find the correct option to complete the question figure.

Question Figure:

Answer Figures:



(1)



(2)



(3)




(4)


Q. 46 and Q. 47 Direction :

Find exactly the same figure that matches with the question figure from the options.


46. **Question Figure:**




Answer Figures:




(1)



(2)



(3)



(4)

SPACE FOR ROUGH WORK

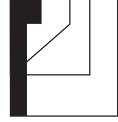
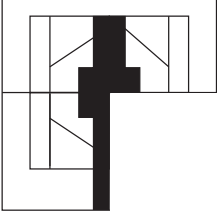
ABCDE	FGHIJ	KLMNO	PQRST	UVWXY
-------	-------	-------	-------	-------

44. (1) CWF (2) DVI (3) FTL (4) GSN

45. ಕೆಳಗಿನ ಪ್ರಶ್ನೆ ಆಕೃತಿ ಪೂರ್ಣಗೊಳಿಸಲು ಯೋಗ್ಯ ಪರ್ಯಾಯ ಆರಿಸಿರಿ

ಪ್ರಶ್ನೆ ಆಕೃತಿಗಳು :

ಉತ್ತರ ಆಕೃತಿಗಳು :



(1)



(2)



(3)




(4)


ಸೂಚನೆ 46 ರಿಂದ 47 ರ ವರೆಗೆ :

ಕೆಳಗಿನ ಪ್ರಶ್ನಾಕೃತಿಗೆ ಯೋಗ್ಯವಾಗಿ ಸರಿಹೊಂದುವ ಆಕೃತಿ ಪರ್ಯಾಯಗಳಿಂದ ಆರಿಸಿರಿ.


46. ಪ್ರಶ್ನೆ ಆಕೃತಿಗಳು :




ಉತ್ತರ ಆಕೃತಿಗಳು :




(1)



(2)



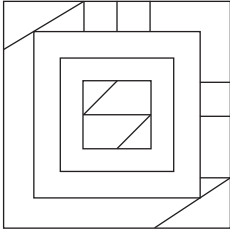
(3)



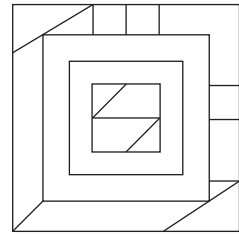
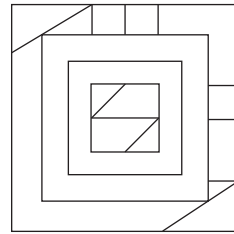
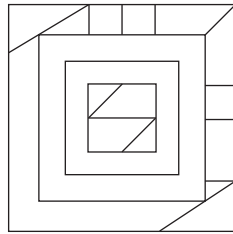
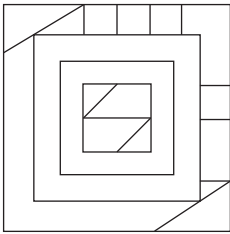
(4)

ಕೇವಲ ಕಚ್ಚಾ ಕೆಲಸಕ್ಕಾಗಿ

47. Question Figure:



Answer Figures:



(1)

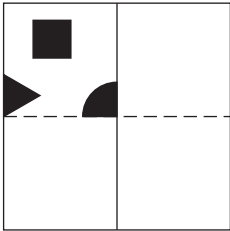
(2)

(3)

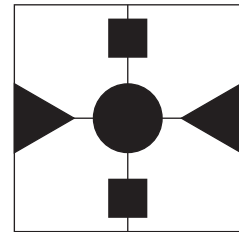

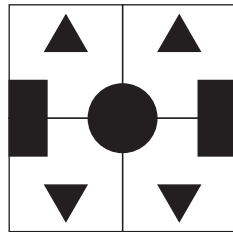
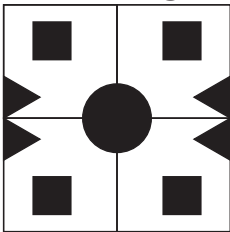
(4)

48. In the given question figure, a paper after folding is cut as shaded part shown. How will it look from the given answer figures after unfolding?

Question Figure:



Answer Figures:



(1)

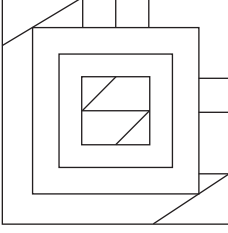
(2)

(3)

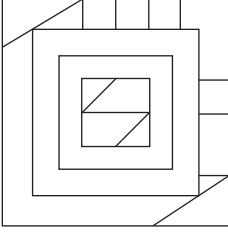
(4)

SPACE FOR ROUGH WORK

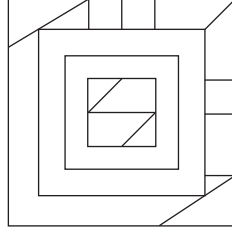
47. ಪ್ರಶ್ನೆ ಆಕೃತಿಗಳು :



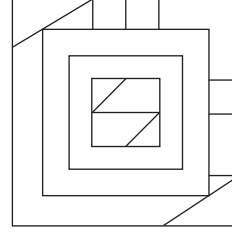
ಉತ್ತರ ಆಕೃತಿಗಳು :



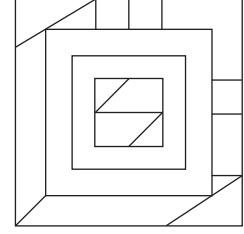
(1)



(2)



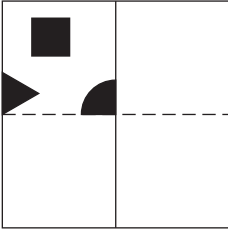
(3)



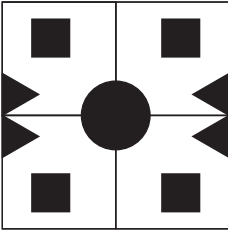
(4)

48. ಕೆಳಗಿನ ಪ್ರಶ್ನಾಕೃತಿಯಲ್ಲಿ ಕಾಗದಕ್ಕೆ ಮಡಿಕೆ ಹಾಕಿ ಛಾಯಾಂಕಿತ ಸ್ಥಳದಲ್ಲಿ ಕತ್ತರಿಸಿ ತೆರೆದಾಗ ಅದರ ಆಕಾರ ಪರ್ಯಾಯದಲ್ಲಿಯ ಯಾವ ಆಕೃತಿಯ ಹಾಗೆ ಕಾಣಿಸುವುದು?

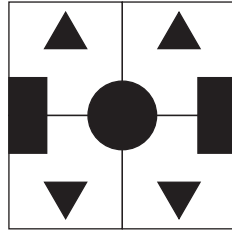
ಪ್ರಶ್ನೆ ಆಕೃತಿಗಳು :



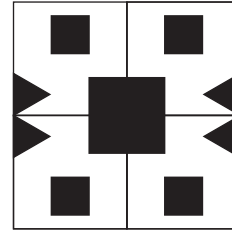
ಉತ್ತರ ಆಕೃತಿಗಳು :



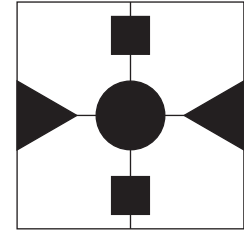
(1)



(2)



(3)

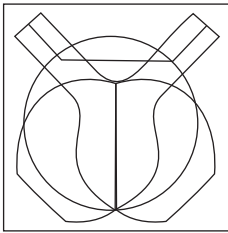


(4)

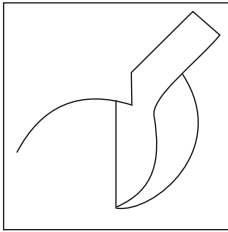
ಕೇವಲ ಕಚ್ಚಾ ಕೆಲಸಕ್ಕಾಗಿ

49. From the alternatives, find the figure which is hidden in the question figure.

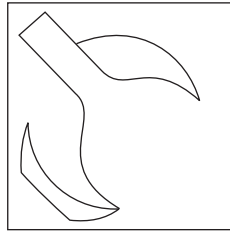
Question Figure:



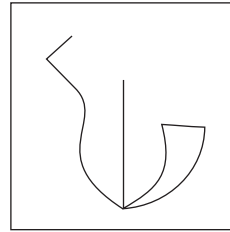
Answer Figures:




(1)



(2)



(3)



(4)

50. In the given table, in a code language symbols are used for the numbers. Observe and find the symbols which will replace the question mark.

Numbers	0	1	2	3	4	5	6	7	8	9
Symbols	◻	○	▽	◻	⊙	△	□	☆	▲	●

From the given $(● + ▲ - ☆) \nabla \div (\triangle) \nabla + \square - ☆ = ?$

- (1) ◻ (2) ⊙ (3) △ (4) ◻

Q. 51 and Q. 52 Direction :

In a certain code language, figures are replacing letters.

51. AIR word is written as $\triangle \square \bullet$, RAN word is written as $\bullet \triangle \blacksquare$, TRY word is written as $\odot \bullet \star$ then how is the word TAN is written in this code language?

- (1) $\star \odot \square$ (2) $\square \bullet \odot$ (3) $\odot \triangle \blacksquare$ (4) $\triangle \odot \blacksquare$

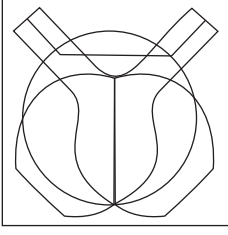
52. From the given code figures which symbols can form meaningful words. (Select 2 correct options.)

- (1) $\triangle \blacksquare \odot$ (2) $\bullet \triangle \star$ (3) $\star \triangle \square$ (4) $\circ \square \star$

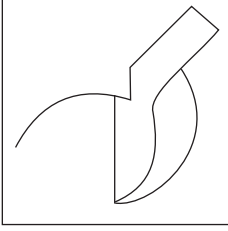
SPACE FOR ROUGH WORK

49. ಪ್ರಶ್ನಾಕೃತಿಯಲ್ಲಿ ಅಡಗಿರುವ ಆಕೃತಿ ಪರ್ಯಾಯಗಳಿಂದ ಆರಿಸಿರಿ.


ಪ್ರಶ್ನೆ ಆಕೃತಿಗಳು :



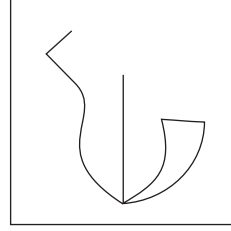
ಉತ್ತರ ಆಕೃತಿಗಳು :




(1)



(2)



(3)



(4)

50. ಕೆಳಗಿನ ಚೌಕಟ್ಟಿನಲ್ಲಿ ಒಂದು ಸಾಂಕೇತಿಕ ಭಾಷೆಯಲ್ಲಿಯ ಅಂಕಿಗಳ ಸಲುವಾಗಿ ಚಿಹ್ನೆಗಳ ಬಳಕೆ ಮಾಡಲಾಗಿದೆ.

ಅಂಕಿಗಳು	0	1	2	3	4	5	6	7	8	9
ಸಾಂಕೇತಿಕ ಚಿಹ್ನೆಗಳು	☐	○	▽	◻	⊙	△	□	☆	▲	●

ಹಾಗಾದರೆ, $(● + ▲ - ☆) \nabla \div (\triangle) \nabla + \square - ☆ = ?$

(1) ☐

(2) ⊙

(3) △

(4) ☐

ಸೂಚನೆ 51 ಮತ್ತು 52 ರ ವರೆಗೆ :

ಒಂದು ಸಾಂಕೇತಿಕ ಭಾಷೆಯಲ್ಲಿ 'ಕಲಮ' ಈ ಶಬ್ದ '432', 'ಲಕಬ' ಇದು 321 ಮತ್ತು 'ಬಕಸ' ಇದು 152 ಹೀಗೆ ಬರೆಯುತ್ತಾರೆ.

51. 'ಸರಬಕ' ಈ ಶಬ್ದ ಹೇಗೆ ಬರೆಯುವಿರಿ?

(1) 2815

(2) 5843

(3) 5812

(4) 5814

52. ಕೆಳಗಿನ ಯಾವ ಸಾಂಕೇತಿಕ ಅಂಕಿಗಳಿಂದ ಅರ್ಥಪೂರ್ಣ ಶಬ್ದ ತಯಾರಾಗುವುದು?

(ಯೋಗ್ಯ ಎರಡು ಪರ್ಯಾಯಗಳು ಆರಿಸಿರಿ.)

(1) 243

(2) 251

(3) 242

(4) 131

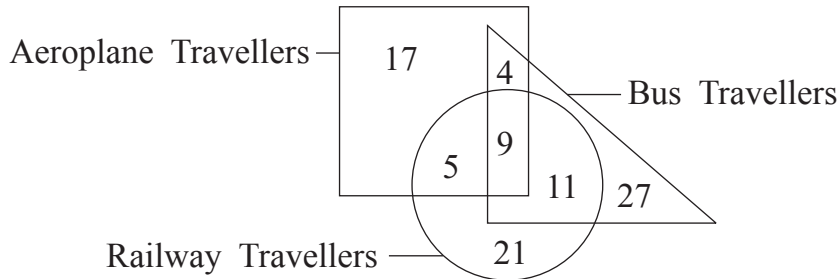
ಕೇವಲ ಕಚ್ಚಾ ಕೆಲಸಕ್ಕಾಗಿ

ABCDE	FGHIJ	KLMNO	PQRST	UVWXY
-------	-------	-------	-------	-------

53. John was standing on a ground facing south direction. He started walking straight in the same direction and walked 29 metres. Then he turned to his right at right angle and walked straight for 17 metres. Again he turned to his right at right angle and walked 8 metres, in the end he turned to his left in right angle and walked 11 metres. At what minimum distance is he from his original place?
 (1) 36 m. (2) 34 m. (3) 35 m. (4) 37 m.
54. Sachin and Rahul participated in the running competition. Sachin said, "My place in the line is 19th and ahead to me Rahul is at 4th place." Rahul said, "I am 9th from last." From the given options find the correct statement. (Select 2 correct alternatives.)
 (1) 24 Participants are there in the competition.
 (2) Sachin is 5th from the last.
 (3) Rahul's place is 16th in the line.
 (4) Middle Participant's place is 12th.
55. If in the year 2022 'Balika Divas' falls on Monday, then in the same year 'Kranti Day' will be on which day?
 (1) Monday (2) Tuesday (3) Sunday (4) Saturday

Q. 56 and Q. 57 Direction :

In the given venn diagram, number of travellers of a city is given. Observe the diagram and answer the questions given below.



56. How many travellers who travel by aeroplane are also travelling by bus ?
 (1) 13 (2) 4 (3) 18 (4) 19

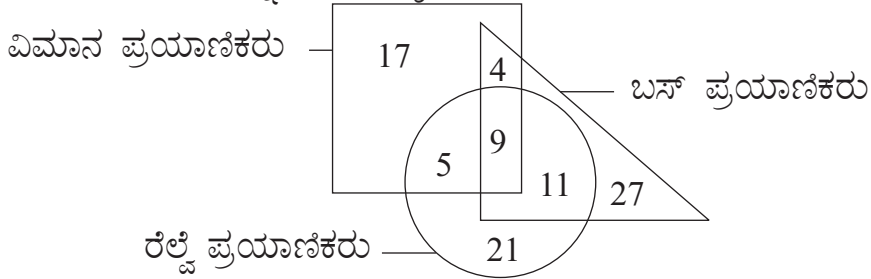
SPACE FOR ROUGH WORK

ABCDE	FGHIJ	KLMNO	PQRST	UVWXY
-------	-------	-------	-------	-------

53. ಜಾನ್ ಒಂದು ಮೈದಾನದಲ್ಲಿ ದಕ್ಷಿಣಕ್ಕೆ ಸರಳವಾಗಿ 29 ಮೀಟರ ನಡೆದು ನಂತರ ಬಲಬದಿಗೆ ಕಾಟಕೋನದಲ್ಲಿ ತಿರುಗಿ ಸರಳವಾಗಿ 17 ಮೀ ನಡೆದು ಮತ್ತೆ ಬಲಬದಿಗೆ ಕಾಟಕೋನದಲ್ಲಿ ತಿರುಗಿ 8ಮೀಟರ ನಡೆದು ಕೊನೆಗೆ ಎಡಬದಿಗೆ ಕಾಟಕೋನದಲ್ಲಿ ತಿರುಗಿ 11 ಮೀಟರ ನಡೆದನು, ಹಾಗಾದರೆ ಅವನು ಮೂಲಸ್ಥಳದಿಂದ ಕಡಿಮೆ ಎಂದರೆ ಎಷ್ಟು ಅಂತರದ ಮೇಲೆ ಇರುವನು?
 (1) 36 ಮೀಟರ (2) 34 ಮೀಟರ (3) 35 ಮೀಟರ (4) 37 ಮೀಟರ
54. ಓಡುವ ಸ್ಪರ್ಧೆಯಲ್ಲಿ ಸಚಿನ ಮತ್ತು ರಾಹುಲ ಇಬ್ಬರು ಭಾಗ ತೆಗೆದುಕೊಂಡರು, ಸಚಿನ ಎಂದನು, “ನನ್ನ ಸಾಲಿನಲ್ಲಿಯ ಕ್ರಮಾಂಕ 19 ಇದ್ದು ನನ್ನ ಮುಂದೆ ರಾಹುಲ ನಾಲ್ಕನೆಯವನಿದ್ದಾನೆ.” ರಾಹುಲ ಎಂದನು, “ನಾನು ಕೊನೆಯಿಂದ ಬಂಬತ್ತನೆಯನಿದ್ದೆನೆ.” ಹಾಗಾದರೆ ಕೆಳಗಿನವುಗಳಲ್ಲಿ ಯೋಗ್ಯ ವಿಧಾನ ಯಾವುದು? (ಯೋಗ್ಯ ಎರಡು ಪರ್ಯಾಯ ಆರಿಸಿರಿ.)
 (1) ಆ ಸ್ಪರ್ಧೆಯಲ್ಲಿ ಒಟ್ಟು 24 ಸ್ಪರ್ಧಕರಿದ್ದಾರೆ.
 (2) ಕೊನೆಯಿಂದ ಐದನೆಯವ ಸಚಿನ ಇದ್ದಾನೆ.
 (3) ರಾಹುಲನ ಸಾಲಿನಲ್ಲಿಯ ಕ್ರಮಾಂಕ ಹದಿನಾರನೆಯದು ಇದೆ.
 (4) ನಡುವಿನ ಸ್ಪರ್ಧಕನ ಕ್ರಮಾಂಕ ಹನ್ನೆರಡನೆಯದು ಇದೆ.
55. ಸನ್ 2022ರಲ್ಲಿ ‘ಬಾಲಿಕಾ ದಿನ’ ಸೋಮವಾರದಂದು ಬಂದರೆ ಅದೇ ವರ್ಷದ ‘ಕ್ರಾಂತಿದಿನ’ ಯಾವ ವಾರದಂದು ಬಂದಿರುವುದು?
 (1) ಸೋಮವಾರ (2) ಮಂಗಳವಾರ (3) ರವಿವಾರ (4) ಶನಿವಾರ

ಸೂಚನೆ ಪ್ರಶ್ನೆ 56 ಮತ್ತು 57 ರ ವರೆಗೆ :

ಬದಿಯ ವೆನ್ ಆಕೃತಿಯಲ್ಲಿ ಒಂದು ಪಟ್ಟಣದ ಪ್ರಮಾಣಿಕರ ಸಂಖ್ಯೆಗಳು ಕೊಡಲಾಗಿದೆ. ಅದರ ನಿರೀಕ್ಷೆ ಮಾಡಿ, ಅದರ ಕೆಳಗಿನ ಪ್ರಶ್ನೆಗಳ ಯೋಗ್ಯ ಉತ್ತರ ಪರ್ಯಾಯಗಳಿಂದ ಆರಿಸಿರಿ.



56. ವಿಮಾನದಿಂದ ಪ್ರವಾಸ ಮಾಡುವ ಎಷ್ಟು ಪ್ರಯಾಣಿಕರು ಬಸ್‌ನಿಂದ ಪ್ರವಾಸ ಮಾಡುವರು?
 (1) 13 (2) 4 (3) 18 (4) 19

ಕೇವಲ ಕಚ್ಚಾ ಕೆಲಸಕ್ಕಾಗಿ

ABCDE	FGHIJ	KLMNO	PQRST	UVWXY
-------	-------	-------	-------	-------

57. How many travellers are travelling by railway and not by aeroplane ?
 (1) 21 (2) 37 (3) 32 (4) 46
58. If $9 \times 17 = 49$, $13 \times 31 = 100$, $12 \times 18 = 81$ then find $14 \times 4 = ?$
 (1) 81 (2) 64 (3) 121 (4) 100

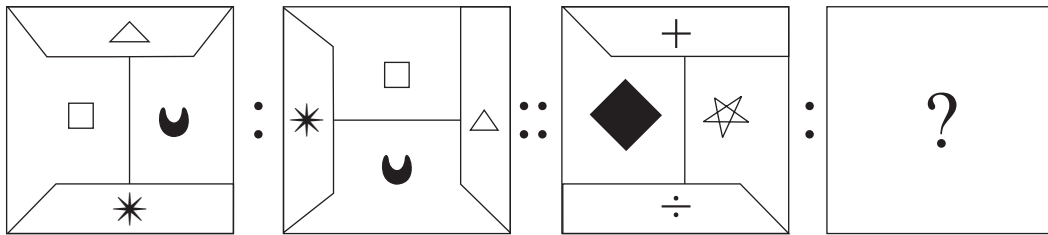
Q. 59 to Q. 63 Direction :

There exists a certain relationship between 1st and 2nd term.

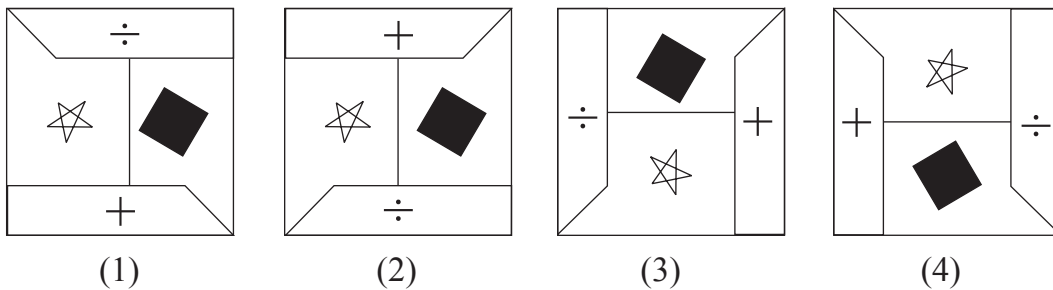
The same relationship exists between the 3rd and 4th term. Considering this select the alternative to replace the question mark.

59. Malgudi Days : R.K. Narayan :: Broken Wings : ?
 (1) APJ Abdul Kalam (2) Arundhati Roy
 (3) Sarojini Naidu (4) Vikram Seth
60. National Voters Day : 25th January :: Constitution Day : ?
 (1) 26th November (2) 25th December
 (3) 30th January (4) 26th January

61. Question Figures:



Answer Figures:



SPACE FOR ROUGH WORK

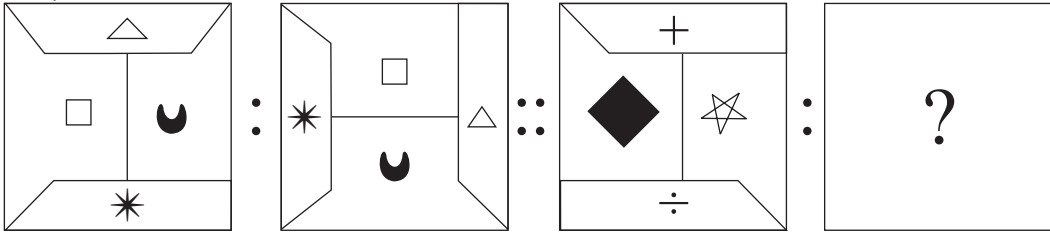
ABCDE	FGHIJ	KLMNO	PQRST	UVWXY
-------	-------	-------	-------	-------

57. ರೈಲಿನಿಂದ ಪ್ರವಾಸ ಮಾಡುವರು ಆದರೆ ವಿಮಾನದಿಂದ ಪ್ರವಾಸ ಮಾಡುವದಿಲ್ಲ ಇಂತಹ ಪ್ರಯಣಿಕರು ಎಷ್ಟು?
 (1) 21 (2) 37 (3) 32 (4) 46
58. ಒಂದು ವೇಳೆ, $9 \times 17 = 49$, $13 \times 31 = 100$, $12 \times 18 = 81$ ಹಾಗಾದರೆ, $14 \times 4 = ?$
 (1) 81 (2) 64 (3) 121 (4) 100

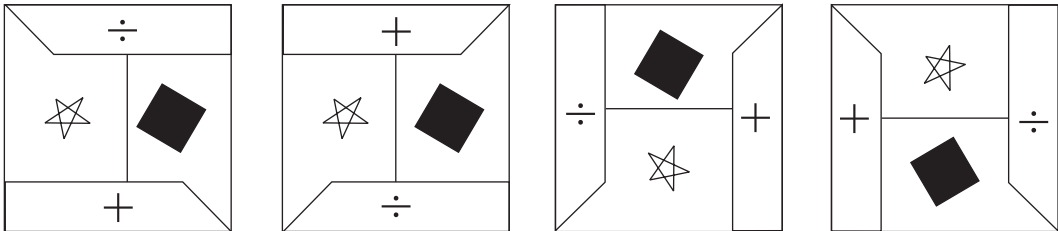
ಸೂಚನೆ ಪ್ರಶ್ನೆ 59 ರಿಂದ 63 ರ ವರೆಗೆ :

ಮೊದಲನೆಯ ಪದದ ಎರಡನೆಯ ಪದಕ್ಕೆ ಇರುವ ಸಂಬಂಧವೇ ಮೂರನೆಯ ಪದದ ನಾಲ್ಕನೆಯ ಪದಕ್ಕೂ ಇರುವುದು ಎಂಬುದನ್ನು ಲಕ್ಷದಲ್ಲಿ ತೆಗೆದುಕೊಂಡು ಪ್ರಶ್ನೆಚಿಹ್ನೆಯ ಸ್ಥಳದಲ್ಲಿ ಬರುವ ಯೋಗ್ಯ ಉತ್ತರದ ಪರ್ಯಾಯ ಆರಿಸಿರಿ.

59. ಕೂಡಲಸಂಗಮದೇವ : ಬಸವಣ್ಣ :: ಚನ್ನ ಮಲ್ಲಿಕಾರ್ಜುನ : ?
 (1) ಸಿದ್ಧರಾಮ (2) ಅಲ್ಲಮಪ್ರಭು (3) ಅಕ್ಕಮಹಾದೇವಿ (4) ದಾಸಿಮಯ್ಯ
60. ರಾಷ್ಟ್ರೀಯ ಮತದಾರ ದಿನ : 25 ಜಾನೆವರಿ :: ಸಂವಿಧಾನ ದಿನ : ?
 (1) 26 ನವೆಂಬರ್ (2) 25 ಡಿಸೆಂಬರ್ (3) 30 ಜಾನೆವರಿ (4) 26 ಜಾನೆವರಿ
61. ಪ್ರಶ್ನೆ ಆಕೃತಿಗಳು :



ಉತ್ತರ ಆಕೃತಿಗಳು :



(1)

(2)

(3)

(4)

ಕೇವಲ ಕಚ್ಚಾ ಕೆಲಸಕ್ಕಾಗಿ

ABCDE	FGHIJ	KLMNO	PQRST	UVWXY
-------	-------	-------	-------	-------

62. 963 : 144 :: 842 : ?

(Select 2 correct alternatives.)

- (1) 64 (2) 78 (3) 112 (4) 50

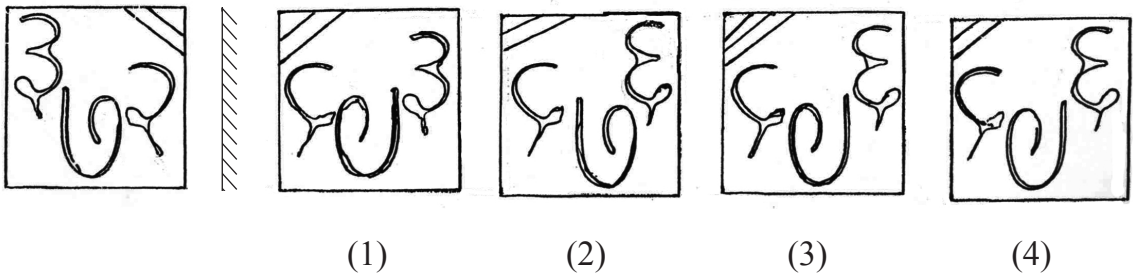
63. LOH : PMT :: ITJ : ?

- (1) RSH (2) SHR (3) SIR (4) SHT

64. Find the mirror image of the question figure from the given options.

Question Figures:

Answer Figures:

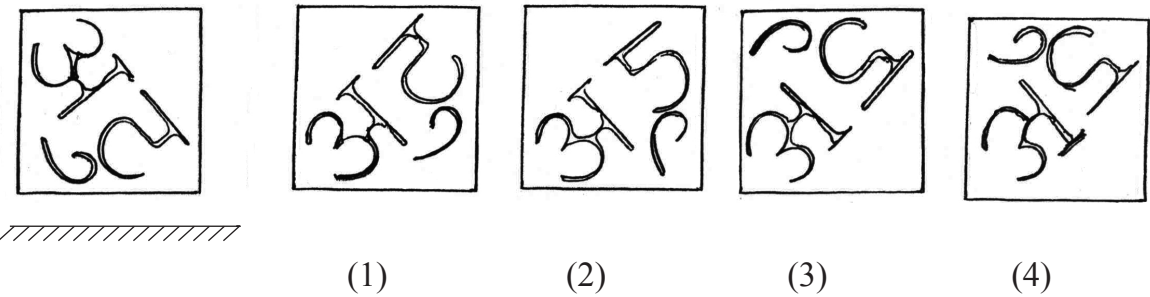


Q. 65 and Q. 66 Direction :

Find the water image of the question figure from the given options.

65. Question Figures:

Answer Figures:



SPACE FOR ROUGH WORK

ABCDE	FGHIJ	KLMNO	PQRST	UVWXY
-------	-------	-------	-------	-------

62. 963 : 144 :: 842 : ?

(ಯೋಗ್ಯ ಎರಡು ಪರ್ಯಾಯ ಆರಿಸಿರಿ.)

- (1) 64 (2) 78 (3) 112 (4) 50


63. LOH : PMT :: ITJ : ?

- (1) RSH (2) SHR (3) SIR (4) SHT

64. ಕೆಳಗಿನ ಪ್ರಶ್ನಾಕೃತಿಯಲ್ಲಿ ಕನ್ನಡಿಯಲ್ಲಿಯ ಪ್ರತಿಬಿಂಬವನ್ನು ಪರ್ಯಾಯಗಳಿಂದ ಆರಿಸಿರಿ.

ಪ್ರಶ್ನಾಕೃತಿ

ಉತ್ತರ ಆಕೃತಿಗಳು :



(1)

(2)

(3)



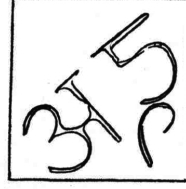

(4)

ಸೂಚನೆ ಪ್ರಶ್ನೆ 65 ಮತ್ತು 66 ರ ಸಲುವಾಗಿ :

ಕೆಳಗಿನ ಪ್ರಶ್ನಾಕೃತಿಯ ಜಲಪ್ರತಿಬಿಂಬ ಪರ್ಯಾಯಗಳಿಂದ ಆರಿಸಿರಿ.

65. ಪ್ರಶ್ನಾಕೃತಿ :

ಉತ್ತರ ಆಕೃತಿಗಳು :



(1)

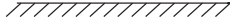
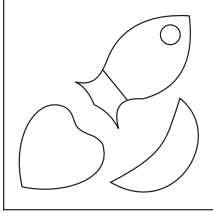
(2)

(3)

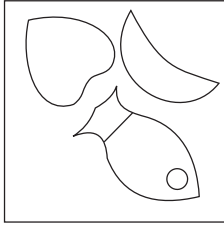
(4)

ಕೇವಲ ಕಚ್ಚಾ ಕೆಲಸಕ್ಕಾಗಿ


66. Question Figure:



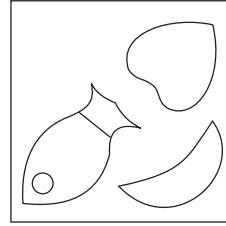
Answer Figures:



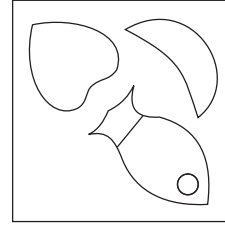
(1)



(2)



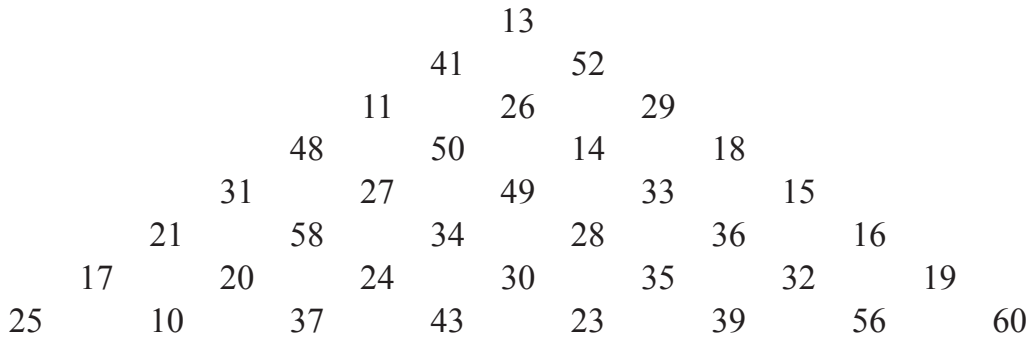
(3)



(4)

Q. 67 to Q. 69 Direction :

Observe the following pyramid. Study the arrangement of numbers and find the correct alternative to replace the question mark.



67. 50485827 : 14183633 :: 26112750 : ?

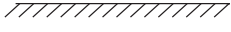
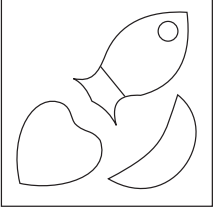
- (1) 29264914 (2) 26293349 (3) 26293314 (4) 26294933

68. 31175834 : 15193628 :: 21252024 : ? (Select 2 correct alternatives.)

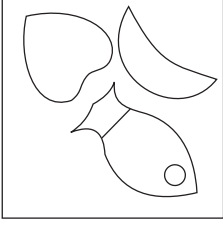
- (1) 36563530 (2) 16603235 (3) 16603236 (4) 36563528

SPACE FOR ROUGH WORK

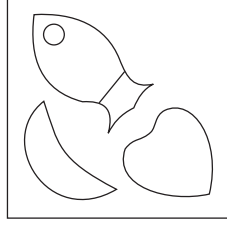
66. ಪ್ರಶ್ನಾಕೃತಿ :



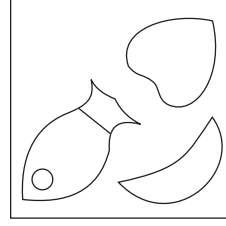
ಉತ್ತರ ಆಕೃತಿಗಳು :



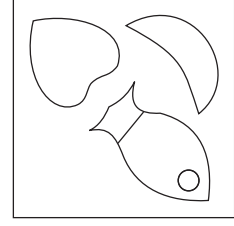
(1)



(2)



(3)



(4)

ಸೂಚನೆ ಪ್ರಶ್ನೆ 67 ರಿಂದ 69 ರ ವರೆಗೆ :

ಕೆಳಗಿನ ಮನೋರೆಯ ನಿರೀಕ್ಷಣೆ ಮಾಡಿ ಅವುಗಳಲ್ಲಿಯ ಅಂಕಿಗಳ ಮಂಡಣೆಯ ಮೇಲಿಂದ ಪ್ರಶ್ನೆ ಚಿಹ್ನೆಯ ಸ್ಥಳದಲ್ಲಿ ಬರುವ ಯೋಗ್ಯ ಪರ್ಯಾಯ ಆರಿಸಿರಿ.

				13					
			41		52				
		11		26		29			
	48		50		14		18		
	31	27		49		33		15	
	21	58		34		28		36	16
	17	20	24		30		35		32
25	10	37		43		23		39	
									56
									60

67. 50485827 : 14183633 :: 26112750 : ?

(1) 29264914 (2) 26293349 (3) 26293314 (4) 26294933

68. 31175834 : 15193628 :: 21252024 : ? (ಯೋಗ್ಯ ಎರಡು ಪರ್ಯಾಯ ಆರಿಸಿರಿ.)

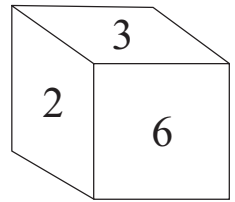
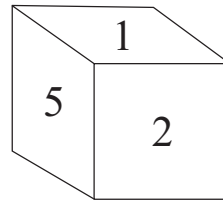
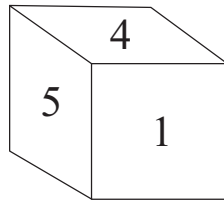
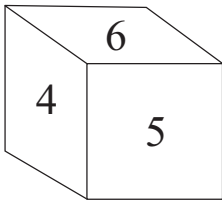
(1) 36563530 (2) 16603235 (3) 16603236 (4) 36563528

ಕೇವಲ ಕಚ್ಚಾ ಕೆಲಸಕ್ಕಾಗಿ

ABCDE	FGHIJ	KLMNO	PQRST	UVWXY
-------	-------	-------	-------	-------

69. 41503448 : 52142818 :: ? : 29333515
 (1) 11272431 (2) 11272449 (3) 11272458 (4) 11272434
70. The ratio of the ages of Sameer, Raghav and Aamir today is 7 : 5 : 3. Sameer is older than Aamir by 12 years, then what is the present age of Raghav ?
 (1) 12 yrs. (2) 21 yrs. (3) 9 yrs. (4) 15 yrs.

71. Below given four cubes are showing the different faces of the same cube. There are numbers from 1 to 6 written on its surfaces. Find the incorrect pair of numbers on the adjacent faces.



- (1) 2 and 4 (2) 6 and 1 (3) 2 and 5 (4) 5 and 3
72. Two statements and two inferences are given below. Read them and select the correct alternative. (Select 2 correct alternatives.)

Statements:

1) All pens are copies.

2) Few books are pens.

Inferences:

A) Few books are copies.

B) Few copies are not books.

(1) A is incorrect

(2) B is correct

(3) A is correct

(4) B is incorrect

SPACE FOR ROUGH WORK

ABCDE	FGHIJ	KLMNO	PQRST	UVWXY
-------	-------	-------	-------	-------

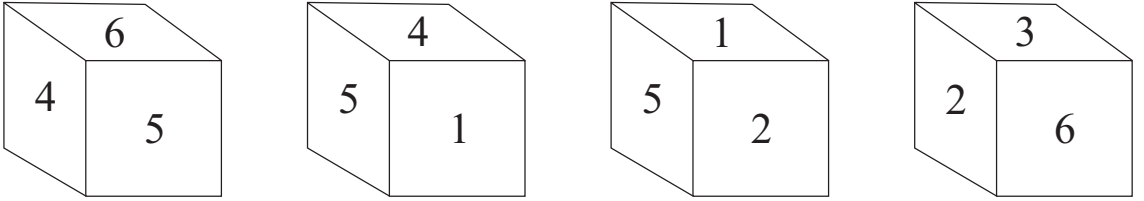
69. 41503448 : 52142818 :: ? : 29333515

- (1) 11272431 (2) 11272449 (3) 11272458 (4) 11272434

70. ಸಮೀರ, ರಾಘವ ಮತ್ತು ಅಮೀರ ಇವರ ಇಂದಿನ ವಯಸ್ಸಿನ ಗುಣೋತ್ತರ ಅನುಕ್ರಮವಾಗಿ 7:5:3 ಹೀಗೆ ಇದೆ. ಸಮೀರ ಇತ ಅಮೀರನಿಗಿಂತ 12 ವರ್ಷ ದೊಡ್ಡವನಿದ್ದಾನೆ, ಹಾಗಾದರೆ ರಾಘವನ ಇಂದಿನ ವಯಸ್ಸು ಎಷ್ಟು?

- (1) 12 ವರ್ಷ (2) 21 ವರ್ಷ (3) 9 ವರ್ಷ (4) 15 ವರ್ಷ

71. ಕೆಳಗಿನ ನಾಲ್ಕು ಘನಗಳು ಒಂದೇ ಘನದ ವಿವಿಧ ಬದಿಗಳಿದ್ದು, ಅವುಗಳ ಮೇಲೆ 1 ರಿಂದ 6 ಅಂಕಗಳು ಬರೆಯಲಾಗಿದೆ. ಹಾಗಾದರೆ ಸಮ್ಮುಖ ಪೃಷ್ಠದಲ್ಲಿಯ ಅಂಕಗಳ ತಪ್ಪು ಜೋಡಿ ಯಾವುದು?



- (1) 2 ಮತ್ತು 4 (2) 6 ಮತ್ತು 1 (3) 2 ಮತ್ತು 5 (4) 5 ಮತ್ತು 3

72. ಕೆಳಗೆ ಎರಡು ವಿಧಾನಗಳು ಮತ್ತು ಎರಡು ಅನುಮಾನಗಳು ಕೊಡಲಾಗಿವೆ. ಅವುಗಳ ಮೇಲಿಂದ ಯೋಗ್ಯ ಪರ್ಯಾಯ ಆರಿಸಿರಿ. (ಯೋಗ್ಯ ಎರಡು ಪರ್ಯಾಯಗಳು ಆರಿಸಿರಿ.)

ವಿಧಾನಗಳು :

- (1) ಎಲ್ಲ ಪೆನ್ನಗಳು ವಹಿಗಳಾಗಿವೆ.
(2) ಕೆಲವು ಪುಸ್ತಕಗಳು ಪೆನ್ನಗಳಾಗಿರುತ್ತವೆ.

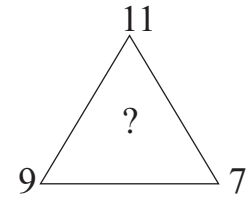
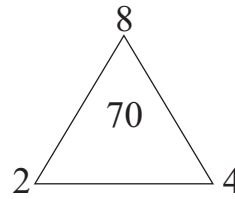
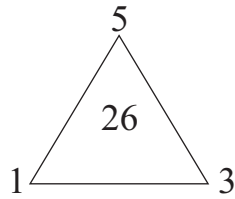
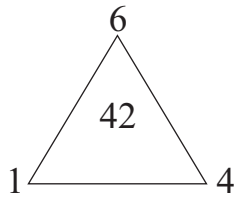
ಅನುಮಾನ :

- (ಅ) ಕೆಲವು ಪುಸ್ತಕಗಳು ವಹಿಗಳಾಗಿರುತ್ತವೆ.
(ಬ) ಕೆಲವು ವಹಿಗಳು ಪುಸ್ತಕಗಳಿಲ್ಲ.

- (1) 'ಅ' ಅಸತ್ಯ (2) 'ಬ' ಸತ್ಯ
(3) 'ಅ' ಸತ್ಯ (4) 'ಬ' ಅಸತ್ಯ

ಕೇವಲ ಕಚ್ಚಾ ಕೆಲಸಕ್ಕಾಗಿ

73. Choose the correct option to replace the question mark.



(1) 225

(2) 251

(3) 275

(4) 224

74. Find the number to replace the question mark after identifying the rule in number arrangement. (Select 2 correct alternatives.)

$\sqrt[3]{27}$	$\sqrt[3]{8}$	5
$\sqrt[3]{125}$	$\sqrt[3]{64}$	9
$\sqrt[3]{1331}$	$\sqrt[3]{512}$?

(1) 56

(2) 19

(3) 18

(4) 57

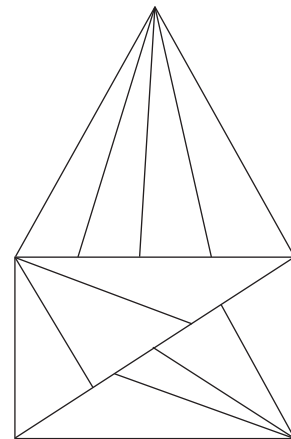
75. How many triangles are there in the given figure ?

(1) 26

(2) 25

(3) 16

(4) 20

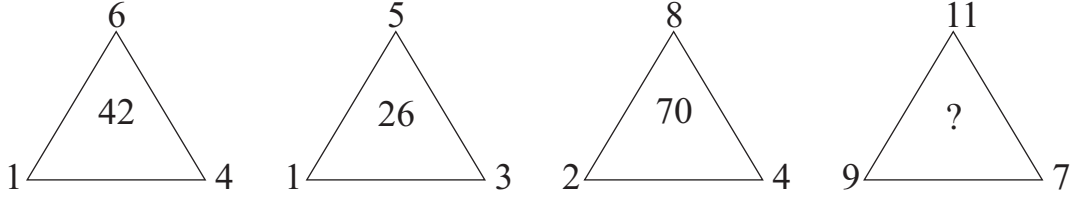


SPACE FOR ROUGH WORK

ಸೂಚನೆ ಪ್ರಶ್ನೆ 73 ಮತ್ತು 74 ರ ವರೆಗೆ :

ಕೆಳಗಿನ ಆಕೃತಿಗಳಲ್ಲಿಯ ಸಂಖ್ಯೆಗಳ ಮಂಡಣಿಯ ಸೂತ್ರ ಗುರುತಿಸಿ ಪ್ರಶ್ನೆ ಚಿಹ್ನೆಯ ಸ್ಥಳದಲ್ಲಿ ಬರುವ ಯೋಗ್ಯ ಪರ್ಯಾಯ ಆರಿಸಿರಿ.

73.



(1) 225

(2) 251

(3) 275

(4) 224

74.

$\sqrt[3]{27}$	$\sqrt[3]{8}$	5
$\sqrt[3]{125}$	$\sqrt[3]{64}$	9
$\sqrt[3]{1331}$	$\sqrt[3]{512}$?

(ಯೋಗ್ಯ ಎರಡು ಪರ್ಯಾಯಗಳು ಆರಿಸಿರಿ.)

(1) 56

(2) 19

(3) 18

(4) 57

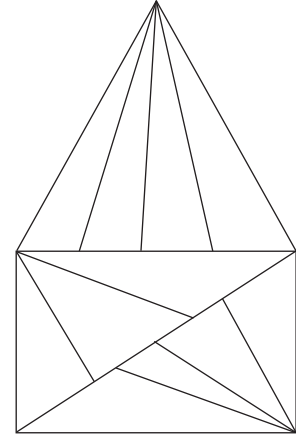
75. ಕೆಳಗಿನ ಆಕೃತಿಯಲ್ಲಿ ಎಷ್ಟು ತ್ರಿಕೋನಗಳು ಇವೆ?

(1) 26

(2) 25

(3) 16

(4) 20



ಕೇವಲ ಕಚ್ಚಾ ಕೆಲಸಕ್ಕಾಗಿ

ಕೇವಲ ಕಚ್ಚಾ ಕೆಲಸಕ್ಕಾಗಿ